



**സാഹല്യം \_ഡയറ്റ് വയനാട്**

**പത്താംതരം തുല്യതാ കോഴ്സ്**

മാതൃകാ പരീക്ഷ



**സാമൂഹ്യശാസ്ത്രം**

ആകെ സ്കോർ 60  
സമയം 2 ½ മണിക്കൂർ

പൊതു നിർദ്ദേശങ്ങൾ

ആദ്യത്തെ 15 മിനിട്ട് സമയം ചോദ്യങ്ങൾ നന്നായി വായിച്ച് മനസ്സിലാക്കണം. ഓരോ ചോദ്യവുമായി ബന്ധപ്പെട്ട നിർദ്ദേശങ്ങൾ വായിച്ച് മനസ്സിലാക്കി ഉത്തരമെഴുതുക. ഓരോ ചോദ്യത്തിന്റെയും സ്കോർ അതതു ചോദ്യത്തിന്റെ നേരേനൽകിയിട്ടുണ്ട്.

1. ഉല്പാദന ഘടകങ്ങൾ ഏതെല്ലാം? അവയിൽ ഏതെങ്കിലും രണ്ടെണ്ണത്തിന്റെ സവിശേഷതകൾ വ്യക്തമാക്കുക? 3
2. ഹാർപ്പൻ നാഗരികതയുടെ ഏതെങ്കിലും മൂന്ന് പ്രത്യേകതകൾ എഴുതുക. 3
3. സുമേരിയൻ എഴുത്ത് വിദ്യയുടെ സവിശേഷതകൾ എന്തെല്ലാം? 3
4. ചില ഭൂപടസൂചകങ്ങളും അവയുടെ നിറങ്ങളും താഴെ നൽകിയിരിക്കുന്നു. അവ ഒരോന്നും എന്തിനെയാണ് ചിത്രീകരിച്ചിരിക്കുന്നത്. 4

സൂചിക	നിറം	ചിത്രീകരിച്ചിരിക്കുന്നത്.
	നീല	
	ചുവപ്പ്	
	മഞ്ഞ	
	പച്ച	

5. ഇംഗ്ലണ്ടിലെ വ്യവസായ വിപ്ലവം പിൻക്കാല സമൂഹത്തിലുണ്ടാക്കിയ മൂന്ന് പ്രധാന ഫലങ്ങൾ എഴുതുക. 3
6. താഴെ കൊടുത്തിരിക്കുന്ന സാമ്പത്തിക പ്രവർത്തനങ്ങളെ പ്രാഥമിക മേഖല, ദ്വിതീയ മേഖല, തൃതീയ മേഖല എന്നിങ്ങനെ തരംതിരിക്കുക. 4  
(കൃഷി, വ്യവസായം, ബാങ്കിംഗ്, സംഭരണം, ഖനനം, ജലവിതരണം, ഇൻഷുറൻസ് ബിസിനസ്, ഗതാഗതം, വനപരിചരണം)
7. ആഗോളവൽക്കരണത്തിന്റെ ഏതെങ്കിലും രണ്ട് സവിശേഷതകൾ എഴുതുക? 2
8. ചേരിചേരാപ്രസ്ഥാനം എന്നാൽ എന്ത്? 2

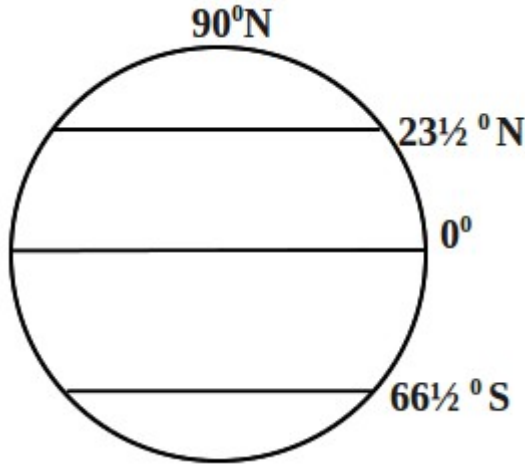
9. സ്വാതന്ത്ര്യാനന്തരം ഇന്ത്യ നേടിയ വൻപുരോഗതി വലയിരുത്തുക , 5  
 (പഞ്ചവൽസര പദ്ധതികൾ, ശാസ്ത്രപുരോഗതി, വിദ്യാഭ്യാസം-വിദേശനയം)

**അല്ലെങ്കിൽ**

ബ്രിട്ടീഷ് ആധിപത്യത്തിനെതിരെ കേരളത്തിൽ നടന്ന പഴശ്ശി, കുറിച്ചിയർ, ആറ്റിങ്ങൽ പ്രക്ഷോഭങ്ങൾ വിശദമാക്കുക .

10. ഇന്ത്യൻ ദേശീയോദ്ഗ്രഥനം നേരിടുന്ന പ്രധാന വെല്ലുവിളികൾ എന്തെല്ലാമെന്നെഴുതുക 3

11. ചിത്രത്തിൽ ചില അക്ഷാംശ രേഖകളും അവയുടെ അളവുകളും നൽകിയിരിക്കുന്നു.. അവ ഏതൊക്കെ അക്ഷാംശ രേഖകളാണെന്ന് എഴുതുക? 2



12. കസ്റ്റംസ് നികുതി എക്സൈസ് നികുതി ഇവ തമ്മിലുള്ള വ്യത്യാസം എന്ത്? 2

13. താഴെ പറയുന്ന നികുതി വരമാനം ,നികുതിയേതര വരമാനം എന്നിങ്ങനെ തരം തിരിച്ചെഴുതുക?

(വായ്പ, ആദായനികുതി, വില്പനനികുതി , പലിശ, ലാഭം, കസ്റ്റംസ് ഡ്യൂട്ടി, കോർപ്പറേഷൻ നികുതി ) 3

14. പ്രത്യക്ഷ ജനാധിപത്യത്തിന്റെ പരിമിതികൾ എന്തെല്ലാം 3

15. തെരഞ്ഞെടുപ്പുകമ്മീഷന്റെ പ്രധാന ചുമതലകൾ എന്തൊക്കെയാണ്? 3

16. ഹിമാലയൻ നദികളുടെയും ഉപദ്വീപീയനദികളുടെയും സവിശേഷതകൾ പട്ടികപ്പെടുത്തുക? 5

**അല്ലെങ്കിൽ**

ഇന്ത്യയിലെ പ്രധാനഗതാഗത സംവിധാനങ്ങൾ വിശദമാക്കുക

17. നിർദ്ദേശക തത്ത്വങ്ങൾ എന്നാലെന്ത്? രണ്ട് ഉദാഹരണങ്ങൾ എഴുതുക 2

18. " ഫാസിസത്തിന്റെ ജർമ്മൻ രൂപമാണ് നാസിസം " സമർത്ഥിക്കുക 3

19. നൽകിയിരിക്കുന്ന ഇന്ത്യയുടെ രൂപരേഖയിൽ ചുവടെ ചേർത്തിരിക്കുന്നവയുടെ സ്ഥാനം കണ്ടെത്തി എഴുതുക 5

- മഹാനദി,
- ദുർഖാപൂർ ഇരുമ്പുരുക്ക് ശാല
- മുംബൈ തുറമുഖം,
- ന്യൂഡൽഹി,
- വിന്ധ്യപർവ്വതനിര

